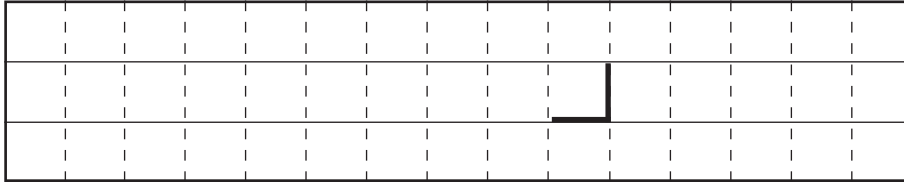


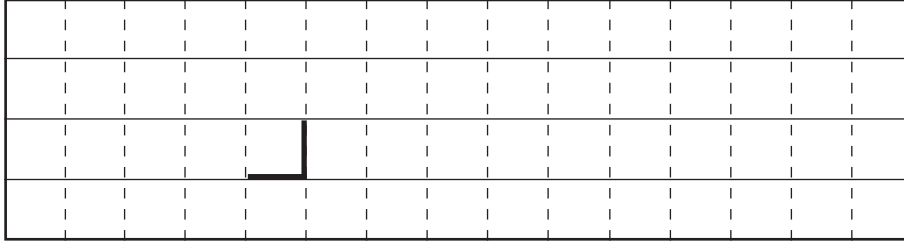


(1)

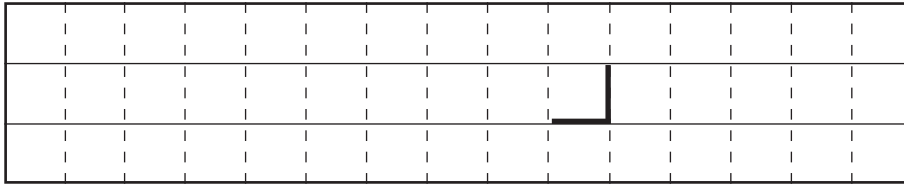
②



③



④



(2)

領域 X : \_\_\_\_\_ 領域 Y : \_\_\_\_\_ 領域 Z : \_\_\_\_\_

対流が最も発生しやすい領域 : 領域 \_\_\_\_\_

(3)

① 地点 a 気温 : \_\_\_\_\_ °C 湿数 : \_\_\_\_\_ °C 混合比 : \_\_\_\_\_ g/kg

地点 b 気温 : \_\_\_\_\_ °C 湿数 : \_\_\_\_\_ °C 混合比 : \_\_\_\_\_ g/kg

② 地点 a : \_\_\_\_\_ °C 地点 b : \_\_\_\_\_ °C

③ ア : \_\_\_\_\_ イ : \_\_\_\_\_ ウ : \_\_\_\_\_

エ : \_\_\_\_\_ オ : \_\_\_\_\_

(4)

\_\_\_\_\_ °C

切り離さないでください

この部分(点線の左側)に書かれた解答は採点しません

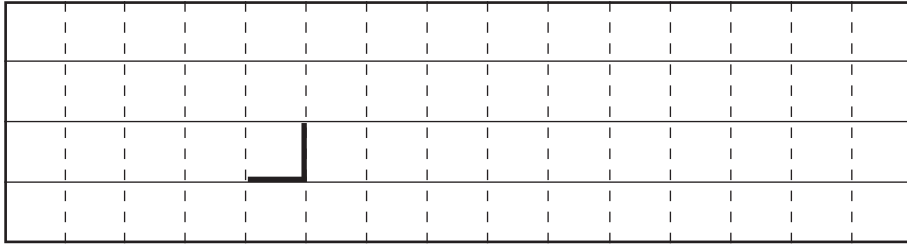
切り離さないでください

問3

(1) 低気圧 盛衰: \_\_\_\_\_ 移動方向: \_\_\_\_\_

高気圧 盛衰: \_\_\_\_\_ 移動方向: \_\_\_\_\_

(2) ①

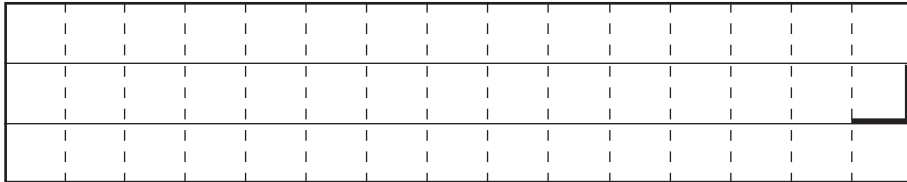


② 北緯 \_\_\_\_\_ ° 東経 \_\_\_\_\_ °

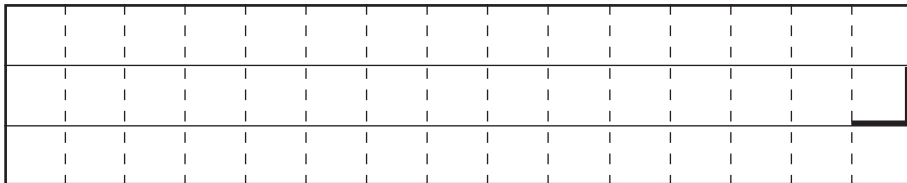
③ 北緯 \_\_\_\_\_ ° 東経 \_\_\_\_\_ °

問4

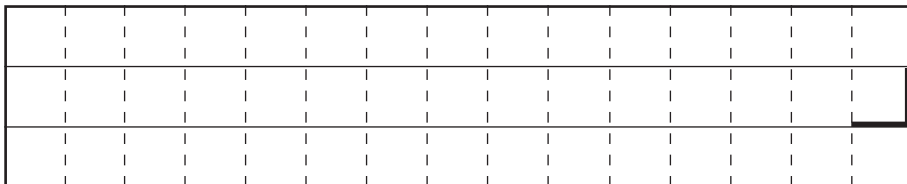
(1) ①



②



③



切り離さないでください


この部分 (点線の左側) に書かれた解答は採点しません

切り離さないでください

(2) ① 東京の前 3 時間降水量の最大値： \_\_\_\_\_ 日 \_\_\_\_\_ 時までに \_\_\_\_\_ mm

横浜の前 1 時間降水量の最大値： \_\_\_\_\_ 日 \_\_\_\_\_ 時までに \_\_\_\_\_ mm

② 東京： \_\_\_\_\_ 横浜： \_\_\_\_\_



④ 指標： \_\_\_\_\_ 災害名： \_\_\_\_\_

切り離さないでください

この部分 (点線の左側) に書かれた解答は採点しません

切り離さないでください