

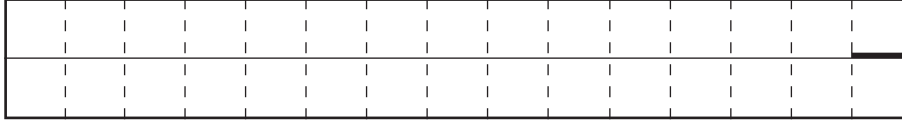


問 2

(1)

① A: 東経 \_\_\_\_\_ ° B: \_\_\_\_\_ m

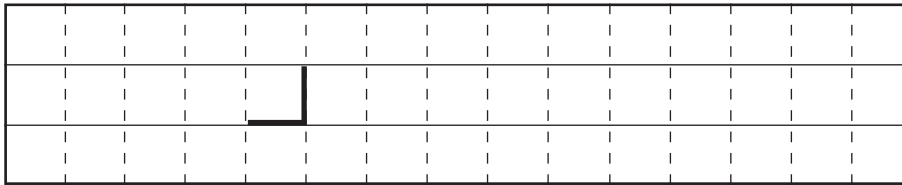
② トラフ A の位置関係の変化



発達への寄与:  有  無 ←どちらか一方を○で囲む

③ 初期時刻～12 時間後

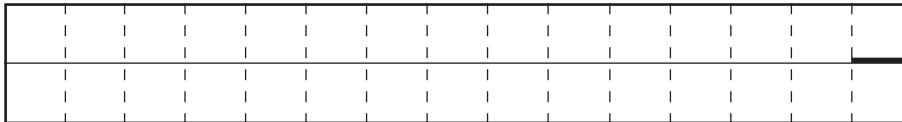
トラフ B の位置関係の変化



発達への寄与:  有  無 ←どちらか一方を○で囲む

12 時間後～24 時間後

トラフ B の位置関係の変化

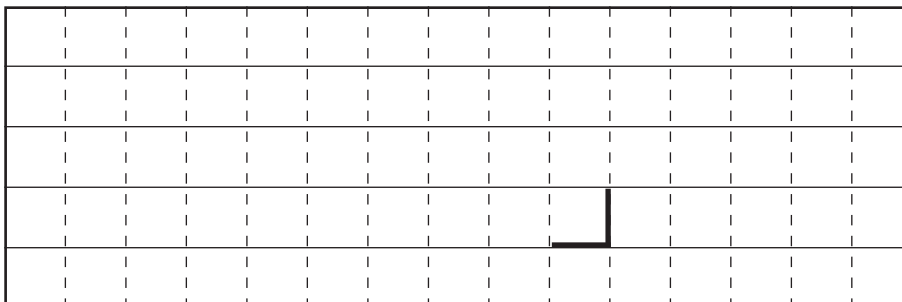


発達への寄与:  有  無 ←どちらか一方を○で囲む

(2)

① 時間帯: \_\_\_\_\_ 中心気圧降下量: \_\_\_\_\_ hPa

②



切り離さないでください

この部分 (点線の左側) に書かれた解答は採点しません

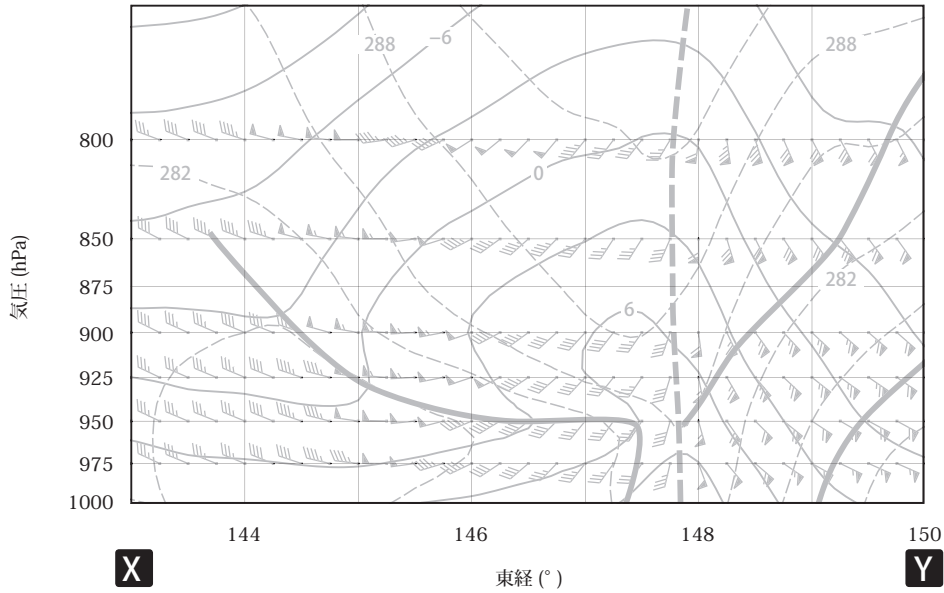
切り離さないでください



問 3

- (1) ① \_\_\_\_\_ ② \_\_\_\_\_ ③ \_\_\_\_\_ ④ \_\_\_\_\_  
 ⑤ \_\_\_\_\_ ⑥ \_\_\_\_\_

(2)



問 4

(1) \_\_\_\_\_ 日の \_\_\_\_\_

(2)

要素 \ 予想時間	T=3~6	T=6~9	T=9~12	T=12~15	T=15~18	T=18~21	T=21~24
3 時間降雪量 (cm)	0						0

(3) 大雪注意報： \_\_\_\_\_ 日の \_\_\_\_\_

大雪警報： \_\_\_\_\_ 日の \_\_\_\_\_

(4) 種類： \_\_\_\_\_

根拠


切り離さないでください

この部分 (点線の左側) に書かれた解答は採点しません

切り離さないでください