

持ち帰り禁止

受験番号

--	--	--	--	--	--

フリガナ

氏名

--

採点欄

--

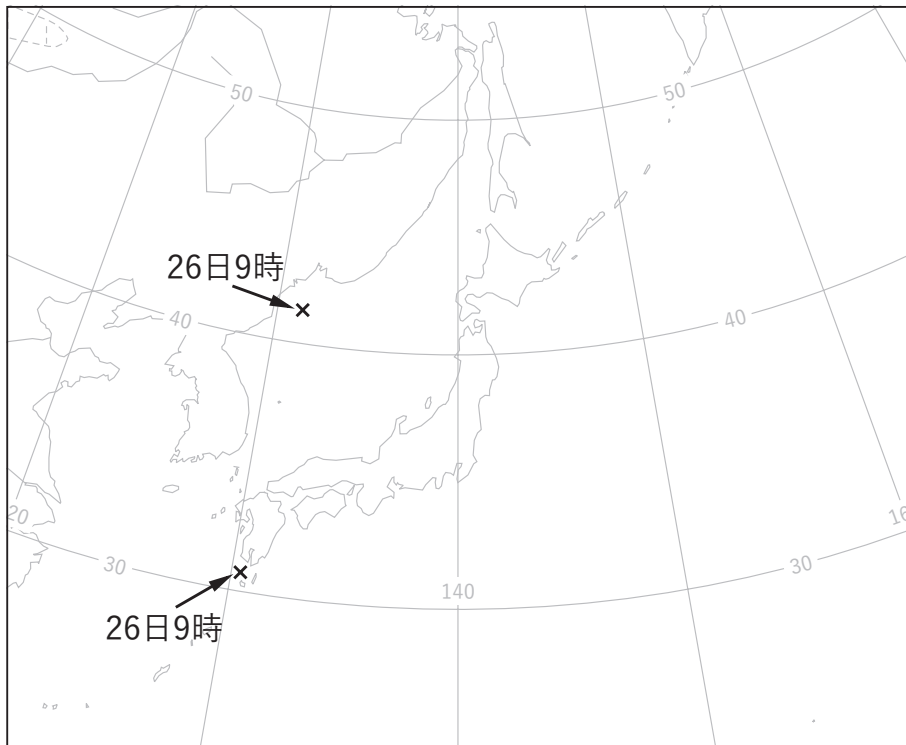
切り離さないでください

問1

- ① _____
- ② _____
- ③ _____
- ④ _____
- ⑤ _____
- ⑥ _____
- ⑦ _____
- ⑧ _____
- ⑨ _____
- ⑩ _____
- ⑪ _____
- ⑫ _____

問2

(1) 地上低気圧の位置と日時



中心気圧の変化量

初期時刻～12時間後： _____ hPa

12時間後～24時間後： _____ hPa

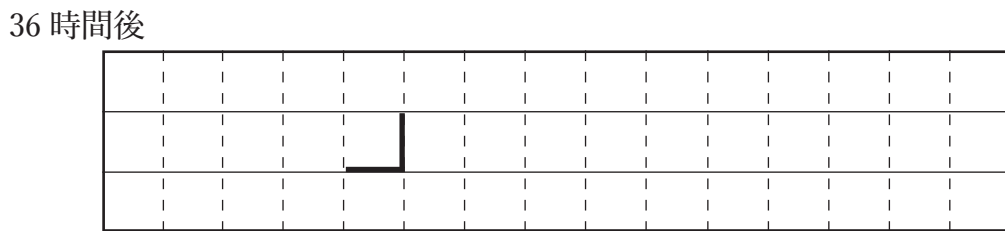
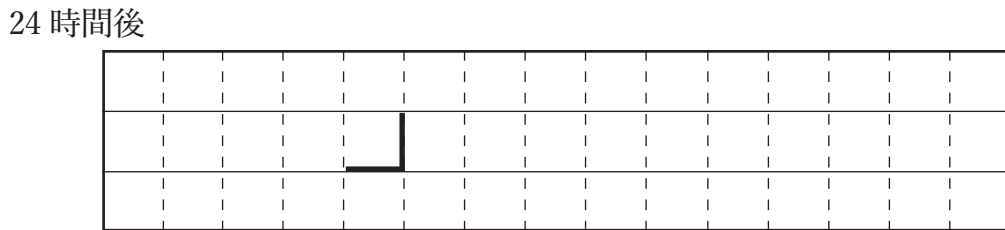
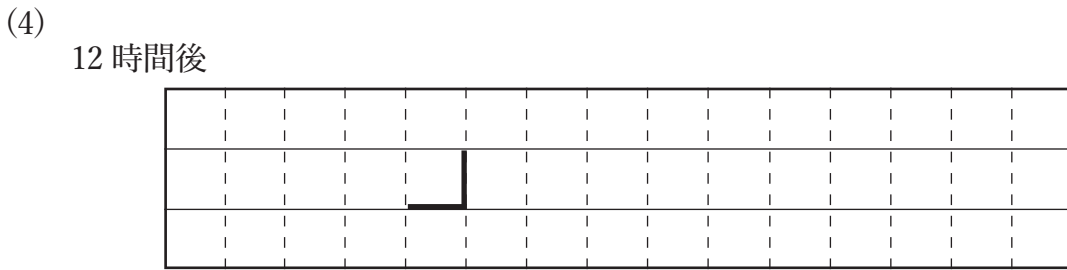
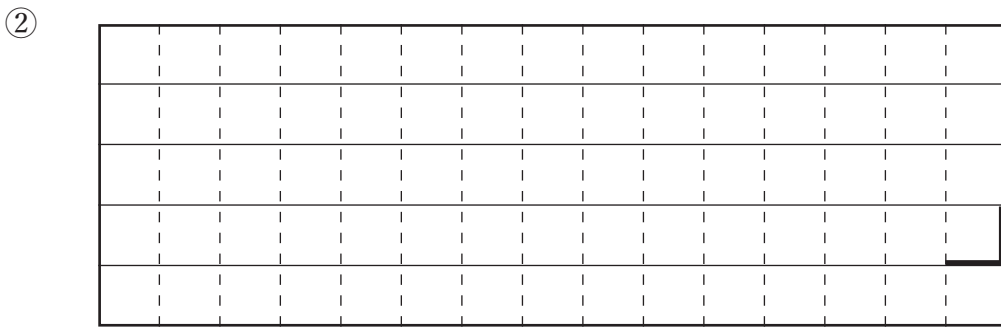
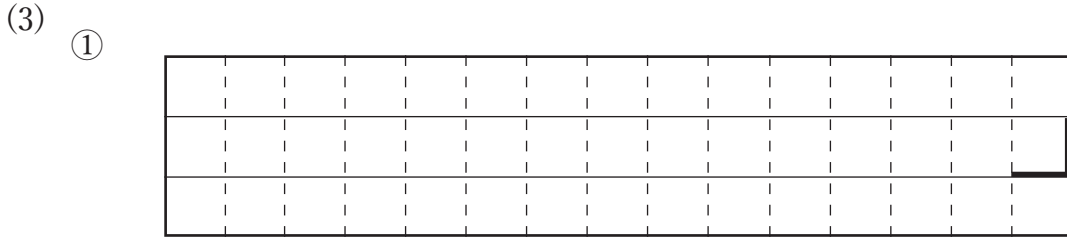
24時間後～36時間後： _____ hPa

この部分(点線の左側)に書かれた解答は採点しません

切り離さないでください

(2) ① _____ ② _____ ③ _____

④ _____ ⑤ _____



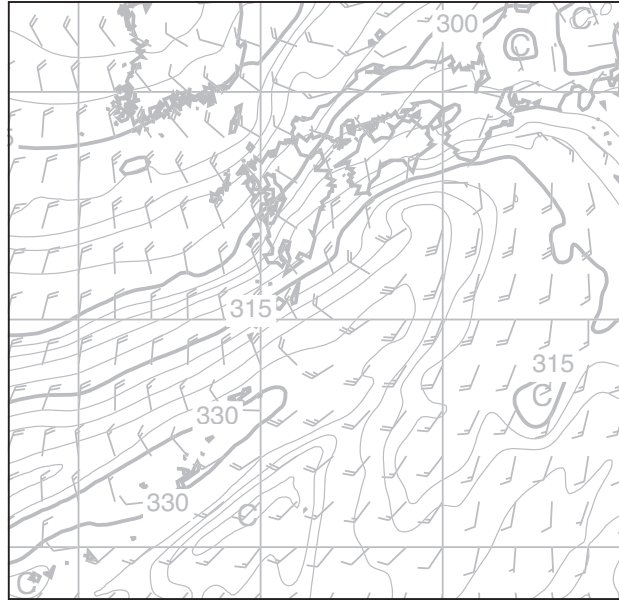
切り離さないでください

この部分(点線の左側)に書かれた解答は採点しません

切り離さないでください

問3

(1)



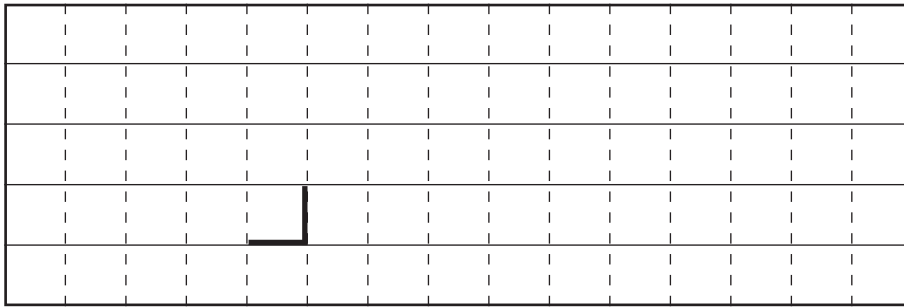
(2)

① _____ °C

② 雲頂高度が高い範囲： _____ 間 雲の種類： _____

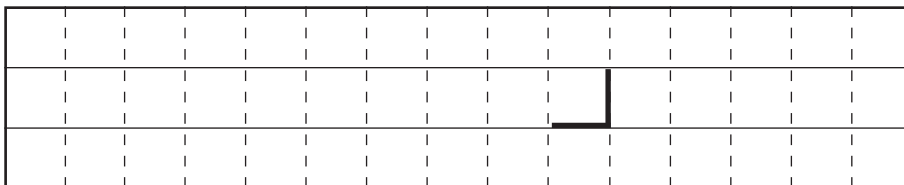
前線との位置関係： _____

③



(3)

①



② 領域C： _____ 領域D： _____

切り離さないでください

この部分(点線の左側)に書かれた解答は採点しません

切り離さないでください

