


(4)




(5) 中・上層雲の雲底の高度： _____ hPa

下層雲の雲頂の高度： _____ hPa

問 2

(1) _____

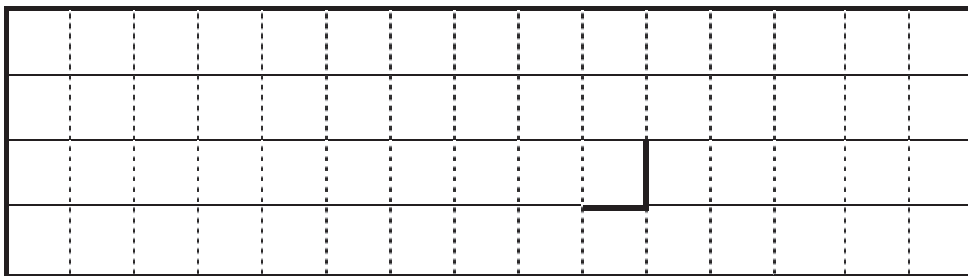
(2)



(3) _____

問 3

(1) ①

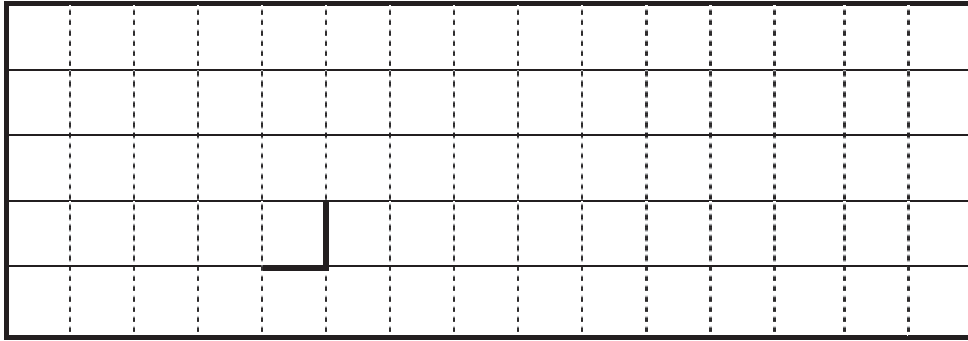


切り離さないでください

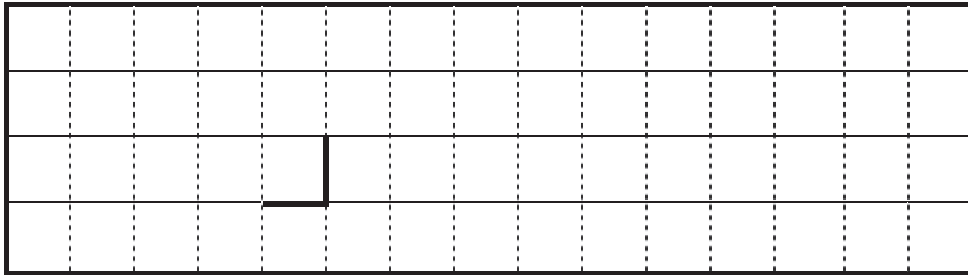
この部分(実線の左側)に書かれた解答は採点しません

切り離さないでください

② 相当温位の分布



風の分布



(2) 平島 12 時間後: _____ mm 24 時間後: _____ mm

内之浦 12 時間後: _____ mm 24 時間後: _____ mm


(3) ① _____ ② _____ ③ _____

問 4

(1) ① _____ 時

② 低温側の方向: _____

理由



(2) ① 相当温位の最大: _____ K 高さ: _____ hPa 湿数: _____ °C

相当温位の最小: _____ K 高さ: _____ hPa 湿数: _____ °C

切り離さないでください

この部分(実線の左側)に書かれた解答は採点しません

切り離さないでください

②

③ 大気の安定性の状態： _____

理由

④

(3) _____ , _____

(4)

(5) 災害名： _____ 対応する指数： _____

災害名： _____ 対応する指数： _____

災害名： _____ 対応する指数： _____

切り離さないでください

この部分(実線の左側)に書かれた解答は採点しません

切り離さないでください